

Олимпиадная работа  
школьного этапа всероссийской олимпиады школьников  
по географии  
обучающе исл 7 класса  
муниципального казённого общеобразовательного учреждения  
«Средняя общеобразовательная школа № 9»  
Красногвардейского муниципального района Ставропольского края

Срещенко Владислава Викторовна

фио

Педагог-наставник: учитель  
муниципального казённого  
общеобразовательного учреждения  
«Средняя общеобразовательная школа №  
9» Красногвардейского муниципального  
района Ставропольского края

Елфимова А.Г. ФИО учителя

27 сентября 2024 года

ГЕОГРАФИЯ  
7 КЛАСС

Теоретический тур

Максимальное количество баллов - 80

Задание 1.

Материк	Горы	Вершина
Евразия	Кавказ	Эльбрус
Северная Америка	Аппалачи	Мак-Клинтон
Евразия	Тяньшань	Джомолунгма
Южная Америка	Анды	Аконкагуа
Евразия	Альпы	Монблан

+ 20

Нил - река Нил - обширный регион центральной Азии, Амазонка - пустыня.

Задание 2.

Животное	Материк
Окапи	Африка
Муравьед	Южная Америка
Пингвин Адели	Антарктида
Ехидна	Австралия
Панда	Евразия
Страус нанду	Южная Америка
Вомбат	Австралия
Жираф	Африка
Горилла	Африка
Бизон	Северная Америка
Лама	Южная Америка
Кенгуру	Австралия
Скунс	Северная Америка

+ 13

Задание 3.

Объект	Страна	Рисунок	Пояснение
А	Франция	3	В Франции делают самую лучшую кофе

ГЕОГРАФИЯ

7 КЛАСС

Б	Австралия	1	Кочка проживает на территории Австралии	+3
В	Канада	2	В Канаде очень много спорщиков, поэтому там крики крикуют	

Задание 4.

- 1) Анды
- 2) Эверест, Эверест
- 3) Сахалин
- 4) \_\_\_\_\_
- 5) Камчатка
- 6) \_\_\_\_\_

+3

Задание 5.

Животное	Страна
а) белый медведь	Швеция
б) бизон	США
в) слон	Индия
г) кенгуру и коала	Австралийский континент
д) киви	Новая Зеландия

+10

*[Handwritten signature]*

**Задания для обучающихся**

Время выполнения заданий - 90 минут

Время выполнения заданий тестового тура 30 минут

Время выполнения заданий теоретического тура 60 минут **Максимальное количество баллов –100 баллов**

**Тестовый тур (20 баллов)**

**1. Установите соответствие между фамилией путешественника и сделанным им открытием (2 балла).**

Фамилия путешественника	Открытие
1. Геродот	А. Открыл путь в Индию вокруг Африки
2. Фернан Магеллан	Б. Достиг островов Центральной Америки
3. Христофор Колумб	В. Составил описание природы и народов Малой Азии, Балканского полуострова и Восточно-Европейской равнины
4. Васко да Гама	Г. Возглавлял первое кругосветное путешествие

1-В  
2-Г  
3-Б  
4-А

**2. Выберите правильный ответ. В каких полушариях может**

**находиться данная часть градусной**

**сетки? (1**

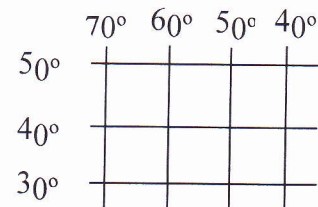
**балл)**

а) в Северном и Восточном;

б) в Южном и Западном;

в) в Северном и Западном;

г) в Южном и Восточном.



**3. Выберите правильный ответ. Какие из перечисленных островов можно посетить, путешествуя по Тихому океану? (2 балла).**

а) Мадагаскар; д) Северная Земля;



- +0,5
- б) Гренландия;  в) Новая Зеландия ;  
в) Курильские; ж) Азорские;  
г) Кука; з) Филиппинские.

4. Укажите верное утверждение (1 балл)

- +1
- а) 22 декабря Солнце находится в зените на экваторе;  
б) на подветренных склонах гор выпадает больше осадков;  
 в) кучево - дождевые облака вызывают обильные ливневые осадки с грозовыми явлениями;  
г) причиной смены дня и ночи является вращение Земли вокруг Солнца.

5. Выберите из перечисленных ветров те, которые являются сезонными (1 балл): а) пассаты;

- +1
- б) муссоны;  
в) западные ветры;  
г) бризы.

6. Внимательно прочитайте стихотворение И. Якимова. О каком природном процессе идёт речь в этом стихотворении? (1 балл)

Хоть в это поверить не очень легко,  
Но Волги вода есть в реке Лимпопо.  
И, путешествуя облаком пара, Воды  
из Волги текут в Ниагару.

Волги вода и в Байкале, и в Ниле.

И, в Танганьике, и в нашей квартире.

Значит, должны понимать это все мы:

Круговорот воды

Реки – часть водной единой системы. Но,  
чтоб не быть с географией в споре, Волга  
впадает в Каспийское море.

*Круговорот воды*

7. Выберите правильный ответ. Какое кругосветное путешествие будет короче? (1 балл) а)

по экватору;

б) по 10° с.ш.;

в) по 50° с.ш.;

г) по 70° с.ш..

+1

8. Выберите правильный ответ. К осадочным породам относится (1 балл):

а) базальт;

б) гранит;

в) поваренная соль;

г) мрамор.

+1

9. Выберите правильный ответ. Какой из приборов не используется на метеоплощадках? (1 балл) а) гигрометр;

б) барометр;

в) альтиметр;

г) термометр.

+1

10. Выберите правильный ответ. Каков масштаб, если расстояние на местности, равное 200 м, на плане занимает отрезок 4 см. (1 балл) а) 1: 500

б) 1: 5000

в) 1: 50 000

+1

г) 1:500 000

11. Выберите правильный ответ. Какой климатообразующий фактор является главным? (1 балл)

а) характер подстилающей поверхности;

+1 б) угол падения солнечных лучей;

в) влияние океанических течений;

г) близость моря.

12. Выберите правильный ответ. Как может изменяться

географическая широта точки? (1 балл)

а) от 0 до 45°

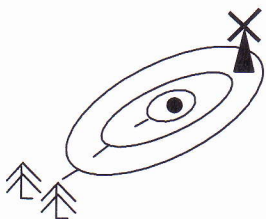
+1 б) от 0 до 90°

в) от 90° до 180°

г) от 180° до 360°

13. Выберите правильный ответ. В каком случае хвойный лес будет виден от ветряной мельницы? (1 балл)

+1 а)



б)



14. Выберите правильный ответ. О какой особенности океана говорит девиз подлодки «Наутилус»: «Подвижный в неподвижном»? (1 балл)

- а) о постоянном движении воды;

б) о морских течениях;

в) о штормах;

г) о волнах.

**15. Укажите природный комплекс (1 балл):**

а) рельеф;

б) растения;

в) животные;

г) море.

**16. Какой материк пересекает начальный меридиан? (1 балл)**

а) Евразию;

б) Южную Америку;

в) Австралию;

г) Северную Америку.

**17. Выберите страны, в которых проживают более 1 млрд. человек**

(2 балла).

а) Монако;

б) Индия;

в) Намибия;

г) Китай.

**Теоретический тур (80 баллов)**

**Задание № 1.** (по 2 балла за каждый правильный ответ, максимальная оценка – 24 балла)

Знаете ли вы физическую карту мира?

Заполните пропуски в таблице, выбрав необходимое из списка географических объектов.



Географические объекты: Анды, Нил, Мак-Кинли, Гоби, Эльбрус, Гималаи, Кавказ, Атакама, Джомолунгма, Монблан, Альпы, Аконкагуа, Кордильеры

Опишите объекты, которые вы не выбрали: вид объекта и на каком материке объект находится.

**Задание № 2.** (по 1 баллу за каждый правильный ответ, максимальная оценка – 13 баллов)

Отправьте этих животных на родину (напишите на каких материках они обитают):

Окапи, муравьед, пингвины Адели, ехидна, панда, страус нанду, вомбат, жираф, горилла, бизон, лама, кенгуру, скунс


**Задание № 3.** (2 балла за каждый правильный ответ + 3 балла

дополнительно, если правильно заполнена вся таблица, максимальная оценка – 21 балл)

На приведенных рисунках вы видите изображения стран и рисунки, характеризующие эти страны.

Впишите в колонку «Страна» таблицы название страны, которое соответствует контуру. Впишите в колонку «Рисунок» таблицы номера рисунков так, чтобы образовались осмысленные пары «страна – рисунок».

Поясните, почему вы так сделали, в колонке «Пояснение»



**Задание № 4.** (по 2 балла за каждый правильный ответ, максимальная оценка – 12 баллов)

Ниже приводятся стихотворные строки А. Усачева, И. Данилова, А. Шауки (египетский поэт), С. Беляева. Некоторые географические названия пропущены (напечатана линия). Напишите эти слова. Обратите внимание: строки должны рифмоваться.

1) Есть в Южной Америке горы - гиганты. Они называются коротко – Анды.

2) На Земле нет выше места, чем вершина Эверест.

Заберись на Эверест – И увидишь всё окрест.

3) В ожерелье снежных сопок,

В алом зареве рябин,

На заре российских тропок

Распростёрся Саганай.

Продуваемый норд-остом,

С горьким запахом волны,  
распростёрся чудо-остров  
На четыре стороны...

4) Как сладость надежды, нам влага его дорога.

Как амбра, смуглы и душисты его берега.

Пусть мутен и глинист – он райские реки затмил,  
святой, полноводный, извечный кормилец наш  
\_\_\_\_\_.

5) Известно всем: есть мыс Лопатка на полуострове Камчатка.

6) Взревел мотор... Лечу под облаками.

А под крылом родного края ширь:

То синими целинными полями,

То белыми Саянскими хребтами меня встречает вешняя \_\_\_\_\_.

**Задание № 5.** (по 2 балла за каждую правильно составленную пару,  
максимальная оценка – 10 баллов)

Поначалу монеты были очень примитивными и поэтому малопривлекательными. Но в XV веке на монеты стали расходовать больше металла, а для изготовления изображения на них, стали приглашать художников. Некоторые страны стали изображать на своих металлических деньгах животных.

Попробуйте определить, на монетах каких стран изображены следующие животные:

а) белый медведь;

б) бизон;

в) слон;

г) кенгуру и коала;

д) киви.

**Страны:** Конго, Австралийский Союз, США, Новая Зеландия, Норвегия



Олимпиадная работа  
школьного этапа всероссийской олимпиады школьников  
по географии  
обучающе Сиде 7 класса  
муниципального казённого общеобразовательного учреждения  
«Средняя общеобразовательная школа № 9»  
Красногвардейского муниципального района Ставропольского края

Сиде Викторией Андреевной

фио

Педагог-наставник: учитель  
муниципального казённого  
общеобразовательного учреждения  
«Средняя общеобразовательная школа №  
9» Красногвардейского муниципального  
района Ставропольского края

Елфимова А.Г. ФИО учителя

27 сентября 2024 года

**Задания для обучающихся**

Время выполнения заданий - 90 минут

Время выполнения заданий тестового тура 30 минут

Время выполнения заданий теоретического тура 60 минут **Максимальное количество баллов –100 баллов**

**Тестовый тур (20 баллов)**

**1. Установите соответствие между фамилией путешественника и сделанным им открытием (2 балла).**

Фамилия путешественника	Открытие
1. Геродот	А. Открыл путь в Индию вокруг Африки
2. Фернан Магеллан	Б. Достиг островов Центральной Америки
3. Христофор Колумб	В. Составил описание природы и народов Малой Азии, Балканского полуострова и Восточно-Европейской равнины
4. Васко да Гама	Г. Возглавлял первое кругосветное путешествие

3-8  
2-2  
4-А  
1-В

**2. Выберите правильный ответ. В каких полушариях может**

**находиться данная часть градусной**  
*балл)*

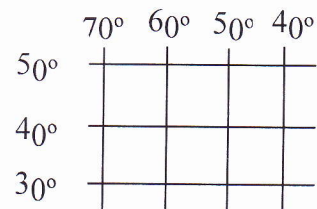
**сетки? (1**

а) в Северном и Восточном;

б) в Южном и Западном;

в) в Северном и Западном;

г) в Южном и Восточном.



**3. Выберите правильный ответ. Какие из перечисленных островов можно посетить, путешествуя по Тихому океану? (2 балла).**

а) Мадагаскар; д) Северная Земля;

- б) Гренландия; **е)** Новая Зеландия ;  
в) Курильские; ж) Азорские;  
г) Кука; з) Филиппинские. 0,58

**4. Укажите верное утверждение (1 балл)**

- а) 22 декабря Солнце находится в зените на экваторе;  
б) на подветренных склонах гор выпадает больше осадков;  
**в)** кучево - дождевые облака вызывают обильные ливневые осадки с грозовыми явлениями; 16  
г) причиной смены дня и ночи является вращение Земли вокруг Солнца.

**5. Выберите из перечисленных ветров те, которые являются сезонными (1 балл):**

- а)** пассаты;  
**б)** муссоны;  
в) западные ветры;  
г) бризы.

**6. Внимательно прочитайте стихотворение И. Якимова. О каком природном процессе идёт речь в этом стихотворении? (1 балл)**

Хоть в это поверить не очень легко,

Но Волги вода есть в реке Лимпопо.

И, путешествуя облаком пара, Воды  
из Волги текут в Ниагару.

Волги вода и в Байкале, и в Ниле.

И, в Танганьике, и в нашей квартире.

Значит, должны понимать это все мы:

16 круговорот воды.

Реки – часть водной единой системы. Но, чтоб не быть с географией в споре, Волга впадает в Каспийское море.

7. Выберите правильный ответ. Какое кругосветное путешествие будет короче? (1 балл) **а)**

по экватору;

б) по 10° с.ш.;

в) по 50° с.ш.;

г) по 70° с.ш..

8. Выберите правильный ответ. К осадочным породам относится (1 балл):

**а)** базальт;

б) гранит;

в) поваренная соль;

г) мрамор.

9. Выберите правильный ответ. Какой из приборов не используется на метеоплощадках? (1 балл) **а)** гигрометр;

б) барометр;

**в)** альтиметр;

г) термометр.

10. Выберите правильный ответ. Каков масштаб, если расстояние на местности, равное 200 м, на плане занимает отрезок 4 см. (1 балл) **а)** 1: 500

**б)** 1: 5000

в) 1: 50 000



г) 1:500 000

11. Выберите правильный ответ. Какой климатообразующий фактор является главным? (1 балл)

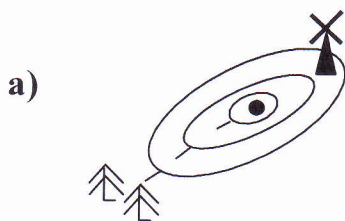
- а) характер подстилающей поверхности;
- б) угол падения солнечных лучей;
- в) влияние океанических течений; 15
- г) близость моря.

12. Выберите правильный ответ. Как может изменяться

географическая широта точки? (1 балл)

- а) от 0 до 45°
- б) от 0 до 90°
- в) от 90° до 180°
- г) от 180° до 360°

13. Выберите правильный ответ. В каком случае хвойный лес будет виден от ветряной мельницы? (1 балл)



14. Выберите правильный ответ. О какой особенности океана говорит девиз подлодки «Наутилус»: «Подвижный в неподвижном»? (1 балл)

- а) о постоянном движении воды;
- б) о морских течениях;

в) о штормах;

г) о волнах.

**15. Укажите природный комплекс (1 балл):**

а) рельеф;

б) растения;

в) животные;

г) море.

**16. Какой материк пересекает начальный меридиан? (1 балл)**

а) Евразию;

б) Южную Америку;

в) Австралию;

г) Северную Америку.

**17. Выберите страны, в которых проживают более 1 млрд. человек (2 балла).**

а) Монако;

б) Индия;

в) Намибия;

г) Китай.

**Теоретический тур (80 баллов)**

**Задание № 1.** (по 2 балла за каждый правильный ответ, максимальная оценка – 24 балла)

Знаете ли вы физическую карту мира?

Заполните пропуски в таблице, выбрав необходимое из списка географических объектов.

Географические объекты: Анды, Нил, Мак-Кинли, Гоби, Эльбрус, Гималаи, Кавказ, Атакама, Джомолунгма, Монблан, Альпы, Аконкагуа, Кордильеры  
Опишите объекты, которые вы не выбрали: вид объекта и на каком материке объект находится.

**Задание № 2.** (по 1 баллу за каждый правильный ответ, максимальная оценка – 13 баллов)

Отправьте этих животных на родину (напишите на каких материках они обитают):

Окапи, муравьед, пингвины Адели, ехидна, панда, страус нанду, вомбат, жираф, горилла, бизон, лама, кенгуру, скунс


**Задание № 3.** (2 балла за каждый правильный ответ + 3 балла дополнительно, если правильно заполнена вся таблица, максимальная оценка – 21 балл)

На приведенных рисунках вы видите изображения стран и рисунки, характеризующие эти страны.

Впишите в колонку «Страна» таблицы название страны, которое соответствует контуру. Впишите в колонку «Рисунок» таблицы номера рисунков так, чтобы образовались осмысленные пары «страна – рисунок».

Поясните, почему вы так сделали, в колонке «Пояснение»





**Задание № 4.** (по 2 балла за каждый правильный ответ, максимальная оценка – 12 баллов)

Ниже приводятся стихотворные строки А. Усачева, И. Данилова, А. Шауки (египетский поэт), С. Беляева. Некоторые географические названия пропущены (напечатана линия). Напишите эти слова. Обратите внимание: строки должны рифмоваться.

1) Есть в Южной Америке горы - гиганты. Они называются коротко – Анды.

2) На Земле нет выше места, чем вершина Эверест.

Заберись на Эверест – И увидишь всё окрест.

3) В ожерелье снежных сопок,

В алом зареве рябин,

На заре российских тропок

Распростёрся Саганг.

Продуваемый норд-остом,



С горьким запахом волны,

распростёрся чудо-остров

На четыре стороны...

4) Как сладость надежды, нам влага его дорога.

Как амбра, смуглы и душисты его берега.

Пусть мутен и глинист – он райские реки затмил,

святой, полноводный, извечный кормилец наш

Кис.

5) Известно всем: есть мыс Лопатка на полуострове Камчатка.

6) Взревел мотор... Лечу под облаками.

А под крылом родного края ширь:

То синими целинными полями,

То белыми Саянскими хребтами меня встречает вешняя Сибирь.

**Задание № 5.** (по 2 балла за каждую правильно составленную пару, максимальная оценка – 10 баллов)

Поначалу монеты были очень примитивными и поэтому малопривлекательными. Но в XV веке на монеты стали расходовать больше металла, а для изготовления изображения на них, стали приглашать художников. Некоторые страны стали изображать на своих металлических деньгах животных.

Попробуйте определить, на монетах каких стран изображены следующие животные:

а) белый медведь;

б) бизон;

в) слон;

г) кенгуру и коала;

д) киви.

**Страны:** Конго, Австралийский Союз, США, Новая Зеландия, Норвегия

*Белый медведь - Норвегия; бизон - США; слон - Конго;*

*Кенгуру и коала - Австралийская; киви - Новая Зеландия;*

ГЕОГРАФИЯ  
 7 КЛАСС

**Теоретический тур**

Максимальное количество баллов - 80

**Задание 1.**

Материк	Горы	Вершина
Евразия	Кавказ	Эльбрус
Северная Америка	Сиадмстое -	Робсон -
Евразия	Тималон	Джомолунгма
Южная Америка	Анды	Аконкагуа
Евразия	Альпы	Монблан

185

**Задание 2.**

Животное	Материк
Окапи	Африка
Муравьед	Южная Америка
Пингвин Адели	Антарктида
Ехидна	Австралия
Панда	Евразия
Страус нанду	Южная Америка
Вомбат	Австралия
Жираф	Южная Африка
Горилла	Африка
Бизон	Северная Америка
Лама	Южная Америка
Кенгуру	Австралия
Скунс	Северная Америка

**Задание 3.**

125

Объект	Страна	Рисунок	Пояснение
А	Бразилия	3	Кодзе

35

ГЕОГРАФИЯ  
 7 КЛАСС

35	Б	Австралия	1	коала
35	В	Канада	2	обувь.

**Задание 4.**

- 1) Ангор 25
- 2) Жерест 25
- 3) Сатами 25
- 4) Нил 25
- 5) Камчатка 25
- 6) Сибирь 25

**Задание 5.**

Животное	Страна
а) белый медведь	Норвегия
б) бизон	США
в) слон	Конго
г) кенгуру и коала	Австралийская
д) киви	Новая Зеландия.

85

48,5



Олимпиадная работа  
школьного этапа всероссийской олимпиады школьников  
по географии  
обучающе Ися 11 класса  
муниципального казённого общеобразовательного учреждения  
«Средняя общеобразовательная школа № 9»  
Красногвардейского муниципального района Ставропольского края

Бурми Татьяна

фио

Педагог-наставник: учитель  
муниципального казённого  
общеобразовательного учреждения  
«Средняя общеобразовательная школа № 9» Красногвардейского муниципального  
района Ставропольского края

Елфимова А.Г. ФИО учителя

27 сентября 2024 года

11 КЛАСС

**Задания для обучающихся**

Время выполнения заданий - 135 минут

Время выполнения заданий тестового тура 45 минут.

Время выполнения заданий теоретического тура 90 минут.

**Максимальная оценка – 100 баллов.****Тестовый тур (25 баллов)**

1. Кому из великих путешественников могли бы принадлежать эти строки: «На этот раз имею тьму дел: ирригация хлебов, иммунитет, к которому возвращаюсь, хинное дерево, пальмовый куст, теория культурных растений, философия тропиков, мировые ресурсы земледелия»? (1 балл)

- 1) Н.И. Вавилов;
- 2) В.В. Докучаев;
- 3) Ч.Р. Дарвин;
- 4) Н.М. Пржевальский.

10

2. В 2023 году Россия отметила юбилейную дату – 240 лет Манифесту о присоединении субъекта X к России (8 апреля 1783 года). Определите субъект X по строкам А. Пушкина и по живописи Айвазовского (1 балл)

Волшебный край! очей отрада!  
Всё живо там: холмы, леса,  
Янтарь и яхонт винограда,  
Долин приятная краса,  
И струй и тополей прохлада...  
Всё чувство путника манит,  
Когда, в час утра безмятежный,



В горах, дорогою прибрежной

Привычный конь его бежит,

И зеленеющая влага

Пред ним и блещет и шумит...

*Краси 15*

Автор: Александр Пушкин

Автор: Иван Айвазовский

3. Определите тип климата по следующим признакам. (1 балл)

Годовая амплитуда температур 50-60 С, небольшая (0,2-0,3м) высота снежного покрова, господство антициклональных типов погоды:

- 1) морской;
- 2) умеренно-континентальный;
- 3) континентальный;
- 4) резко континентальный.

*15*

4. Установите соответствие между странами Европы и лидерством в рейтингах по наличию выдающихся объектов (4 балла)

<i>Третичный сектор экономики и транспорт Европы.</i>	
<i>лидерство в мировых рейтингах по наличию выдающихся объектов</i>	<i>Название страны</i>
А) Крупнейшая сеть троллейбусов, крупнейший отель в мире	1) Великобритания <i>Б</i>
Б) Крупнейший в мире музей по занимаемой площади. Самый высокий мост в мире	2) Нидерланды <i>Е</i>
В) Самый длинный в мире железнодорожный тоннель	3) Франция <i>В</i>
Г) Старейший метрополитен в мире	4) Швейцария <i>Г</i>

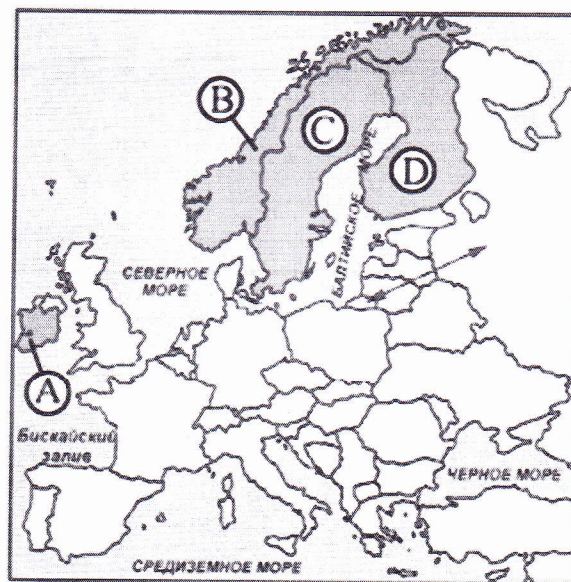


<p>Д) Крупнейшее в мире здание по проведению аукционов – здание цветочного аукциона</p> <p>Крупнейший морской порт по грузообороту и перевалке контейнеров</p>	<p>5) Португалия <i>A</i></p>
<p>Е) Самый длинный мост через эстуарий</p>	<p>6) Россия <i>2</i></p>

5. Для какой из перечисленных стран характерен наибольший приток иммигрантов? (1 балл)

- 1) Иран
- 2) Монголия *—*
- 3) Канада
- 4) Эфиопия

6. Какой буквой на фрагменте политической карты зарубежной Европы



обозначено государство Норвегия? (1 балл)

- 1) А



11 КЛАСС

2) В

3) С

④ D

7. Определите соответствие в мировой структуре выработки электроэнергии между долей выработки электроэнергии и типами электростанций. (7 баллов)

типы электростанций		доля выработки электроэнергии	
1	АЭС	А	4%
2	ТЭС	Б	12%
3	ГЭС	В	16%
4	Альтернативная энергетика	Г	68%

A 4  
B 7  
B 3  
Г 2

75

8. Установите соответствие между объектами Евразии и их географическим положением. (3,5 баллов)

Объект	Географическое положение
А) Ла-Манш	1) Океан, омывающий западное побережье Б
Б) Атлантический	2) Крайний южный мыс материка Г
В) Балканский	3) Залив на юге материка Ж
Г) Пиай	4) Остров у восточного побережья Е
Д) Бенгальский	5) Залив на западе материка Д
Е) Тайвань	6) Пролив, отделяющий остров Великобритания А
Ж) Бискайский	7) Крупный полуостров материка В

25

## 11 КЛАСС

9. Большинство верующих какого из перечисленных народов исповедуют буддизм?

- 1) карелы
- 2) буряты
- 3) чувашы
- 4) хакасы

15

10. Выберите двух исследователей, которые не совершали кругосветного путешествия. (2 балла)

- 1) Н.Н. Миклухо-Маклай
- 2) Ф. Дрейк
- 3) Ю.Ф. Лисянский
- 4) Ф.Ф. Конюхов
- 5) Ф.Ф. Беллинсгаузен

11. Это постоянные преобладающие ветры с востока на запад, которые дуют в экваториальной области Земли. Они дуют в основном с северо-востока в Северном полушарии и с юго-востока в Южном полушарии, усиливаясь зимой и когда арктическое колебание находится в своей теплой фазе. Эти ветры веками использовались капитанами парусных судов для пересечения мирового океана. Они способствовали колониальной экспансии в Америку и созданию торговых путей через Атлантический и Тихий океаны. В метеорологии они служат направляющим потоком для тропических штормов, которые формируются над Атлантическим, Тихим и Индийским океанами и

11 КЛАСС

обрушиваются на сушу в Северной Америке, Юго-Восточной Азии, а также на Мадагаскаре и Восточную Африку. О каких ветрах идет речь? (2 балла)

✓

*Пассаты*

12. В какой стране была выпущена банкнота, изображенная на рисунке? (2 балла)

*Индонезия*



13. Определите страну по краткому описанию. (2 балла)

Эта страна — одна из крупнейших по площади территории и по численности населения. Значительную, но наименее освоенную часть ее территории занимает низменность. Особенностью страны является высокий уровень урбанизации. Население размещено крайне неравномерно: 9/10 населения сосредоточено в приокеанской полосе. Страна богата разнообразными природными ресурсами: по запасам железных, марганцевых руд, бокситов занимает одно из первых мест в мире; огромны ее водные, лесные ресурсы.

*Бразилия*     *Б*

14. Установите соответствие между гербом и субъектом РФ ((2,5 баллов)

**Субъект РФ**

- 1) Свердловская область *Г*
- 2) Ярославская область *В*
- 3) Республика Калмыкия *Д*
- 4) Камчатский край *А*
- 5) Омская область *Б*

*2,50*




11 КЛАСС

## Герб


А)




Б)



В)



Г)



Д)



## Теоретический тур (75 баллов)

## Задание 1. (7 баллов)



**11 КЛАСС**

В 60-70-е гг. XX в. среди ученых, в том числе географов, большой популярностью пользовался проект переброски северных рек на юг. Это один из самых грандиозных инженерных проектов советского времени, над которым трудились более 160 организаций СССР, в том числе 48 проектно-изыскательских и 112 научно-исследовательских институтов (в их числе 32 института Академии Наук СССР). И сегодня есть сторонники этой идеи, предлагающие «продавать» чистую воду сибирских рек Казахстану, Туркмении, Узбекистану.

Представьте, что проект был реализован, и воды из рек Оби и Иртыша были направлены на юг. Учитывая принцип взаимосвязи региональных и глобальных процессов в географической оболочке, сформулируйте 7 географических следствий, которые неизбежно произошли бы в такой ситуации в гидрологическом и термическом режиме Арктики и Северной Америки. Перечислите предполагаемые географические следствия в порядке «от ближнего к далекому».

**Задание 2 (7 баллов)**

Страна X граничит с четырьмя другими. Определите страну X и ее соседей.

О странах - соседях известно следующее:

- |             |   |
|-------------|---|
| О первой    | Здесь – единственный действующий вулкан на материковой суше части света               |
| О второй    | Мировой лидер по производству оливкового масла  |
| О третьей   | Столицей этой, не имеющей выхода к морю республики, не является ее крупнейшим городом |
| О четвертой | Занимает первое место по производству ВВП в своей части света                         |

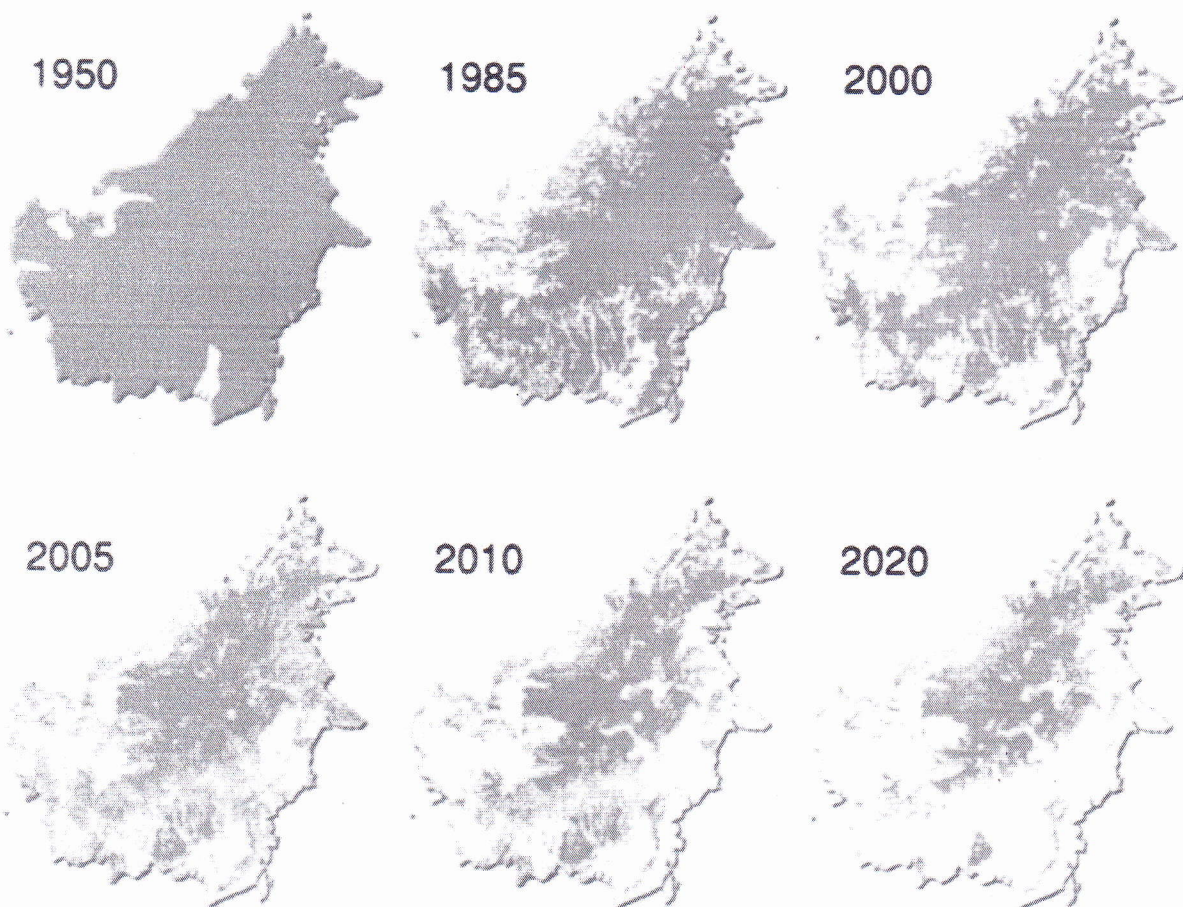
0 минут. Здесь находится свой вариант ЕГЭ

---

Задача 3 (13 баллов)

Рассмотрите карту острова, представленную ниже. В ответе укажите:

- наиболее острую проблему, изображенную на карте; и
- конкретные меры (примеры) решения этой проблемы;
- крупнейший остров Засия, изображенный на карте; и
- отрасли, которые находятся на этом острове;
- один природного ресурс, связанный с конкретной проблемой;
- типы этого ресурса в классификации по возобновляемости и по степени истощаемости ресурса.



**Задание 4** (16 баллов)

Определите страну по космическому снимку и по описанию и ответьте на вопросы. Ответы запишите в именительном падеже, в единственном числе.

Это федеративное государство, не имеющее выхода к Мировому океану, граничит с несколькими государствами Старого Света. Страна поделена на административно-территориальные единицы, носящие такое же название, как в стране-соседке, являющейся лидером по численности населения в этом регионе мира.

Страну в природном отношении можно разделить на «нижнюю» и «верхнюю» части. В «нижней» части протекает вторая по длине река части света, в которой расположена страна. На берегах этой реки стоит столица страны, в



## 11 КЛАСС


которой располагается штаб-квартира международного картеля стран – экспортёров нефти. Помимо столицы этого государства на этой реке стоят ещё несколько столиц стран этой части света.

«Верхняя» часть страны располагается в горной системе, давшей название современной эпохе складчатости. Здесь находится озеро, принадлежащее, помимо этой страны, также двум пограничным государствам, в которых официальный язык такой же, как и в рассматриваемом нами государстве.

Это экономически развитое государство специализируется в первую очередь на производстве машиностроительных товаров, но одной из главных отраслей специализации является туризм, в частности бальнеологический, а также популярен вид туризма, развивающийся благодаря туристско- рекреационному потенциалу «верхней» части страны. В одном из центров «верхней» части в XX веке дважды проводились зимние Олимпийские игры.

В стране находится 10 объектов Всемирного наследия ЮНЕСКО.

Среди них – исторический город, название которому дали соляные месторождения. В этом городе родился композитор, имя которого является визитной карточкой страны.





ВСЕРОССИЙСКАЯ ОЛИМПИАДА ШКОЛЬНИКОВ 2023/24 гг.  
ШКОЛЬНЫЙ ЭТАП



ГЕОГРАФИЯ  
11 КЛАСС Определите

и напишите:

- 1) Название страны
- 2) Название единицы административно-территориального деления страны
- 3) Название реки
- 4) Название международного картеля (напишите аббревиатуру)
- 5) Название горной системы
- 6) Название озера
- 7) Популярный вид туризма
- 8) Столицу Олимпийских игр

**Задание 5 (30 баллов)**

«Эта река катит свои воды через всю Сибирь; словно измерив всю необъятную ширь, делит глубоким руслом огромную страну на две равные части. Сказочно хороша река своим величавым течением, природой и живописными городами и селами, горделиво возвышающимися на крутых берегах. С левого берега у реки притоков мало и нет среди них значительных. Все крупные притоки подходят к реке справа. Это самая многоводная река России. Она выносит в океан воды больше, чем все реки Европейской части страны». (По А. Муранову)

1. О какой реке идет речь? *Енисей 25*
2. Назовите три крупных притока этой реки. *Катунь, Ангара, Большой Ян.*
3. Назовите пять городов, расположенных на берегах этой реки. *Абакан, Красноярск, Енисейск, Саяногорск, Мирнинск. 105*
4. Какие два крупных сооружения возникли на реке? *Красноярская ГЭС и Соленая ГЭС 45*
5. Какие отрасли промышленности здесь развиваются? Перечислите не менее 4 отраслей. *Машиностроение, металлургия алюминия, лесопереработка, мывающий комлекс, рыболовство. 25 25 25*